



MUNICÍPIO DA ESTÂNCIA BALNEÁRIA DE PRAIA GRANDE

Estado de São Paulo
SEDUC - Secretaria de Educação

ATIVIDADE 07



PONTE DO SABER

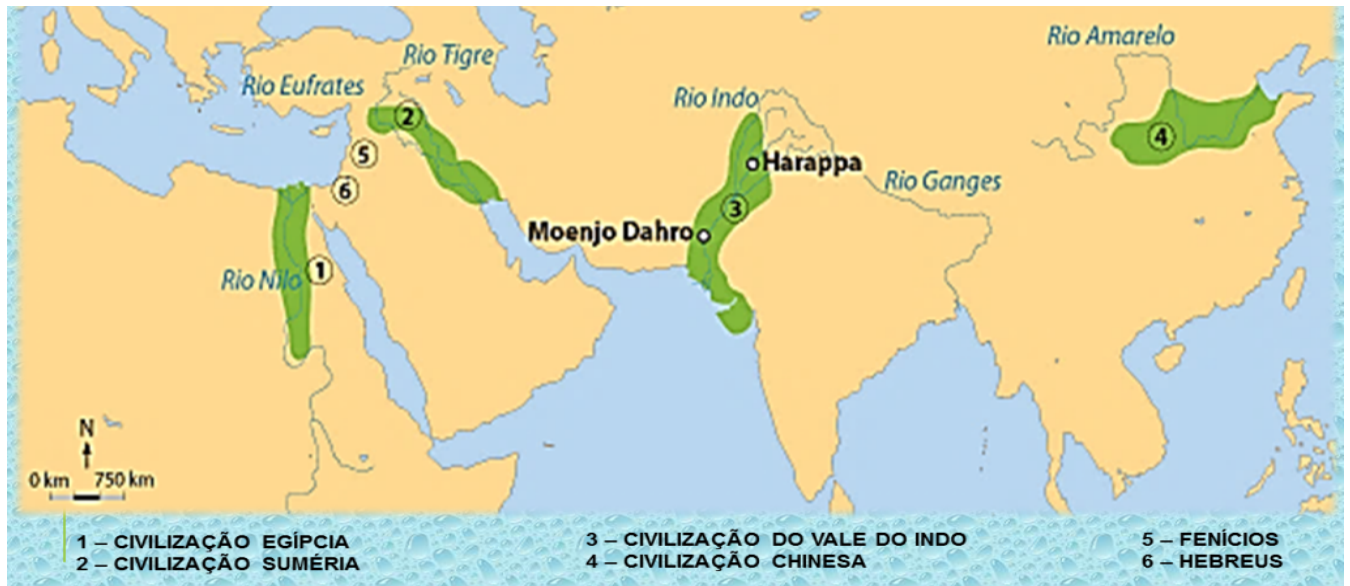
Disciplina: História

6º ano do Ensino Fundamental

Tema: As origens da humanidade, seus deslocamentos e os processos de sedentarização.

Objetivo: Compreender a importância dos rios para as primeiras sociedades fluviais.

AS CIVILIZAÇÕES DOS GRANDES RIOS




1- Civilização Egípcia 2- Civilização Suméria 3- Civilização do Vale do Indo
4- Civilização Chinesa 5- Fenícios 6- Hebreus


Disponível em: <https://athena-xxi.blogspot.com/2016/11/as-civilizacoes-dos-grandes-rios.html>. Acesso em 20 de maio de 2020.



Wikimedia commons (Família ribeirinha no Amazonas)



Wikimedia commons (Tábuas egípcias com antigos processos de agricultura às margens do Nilo)



Disponível em:
<https://www.timetoast.com/timelines/desenvolvimento-economico-da-china-de27f186-0eed-487c-977c-05899e99d9b4>



Disponível em:
<http://www3.gobiernodecanarias.org/medusa/ecoblog/msuaump/sociales-2o-eso/10-primeras-civilizaciones/>

Atividades:

1- Identifique no mapa e assinale a alternativa que contenha o nome das primeiras civilizações:

- a) Egípcia, Suméria, Vale do Indo, Chinesa, Fenícios e Hebreus
- b) Egípcias, Americana, Australiana, chinesa
- c) Chinesa, Egípcia, brasileira, indígena
- d) Hebreus, africanos, americanos, asiáticos.

2- Assinale a alternativa que contenha as civilizações e seus respectivos rios:

- a) Sumério - Nilo, Egito - Tigre, Vale do Indo - Ganges, China - Indo.
- b) Egito- Nilo, Sumérios - Tigre e Eufrates, Vale do Indo - Indo e Ganges, China - Amarelo.
- c) China - Nilo, Vale do Indo - Tigre, Sumérios - Ganges, Egito - Amarelo.
- d) China - Eufrates, Sumério - Ganges, Egito - Indo, Vale do Indo - Tigre

3- Observe as imagens que descrevem cenas cotidianas das primeiras civilizações. Anote a alternativa que aponte pontos em comum entre elas.

- a) Os povos tinham em comum o modo de se vestir e falar
- b) As primeiras civilizações tinham em comum a vida no deserto e a ausência do contato com a água
- c) Todas estão relacionadas ao modo de vida rural e ao contato com os rios
- d) Viviam sem precisar da água e sem se preocupar com a agricultura